

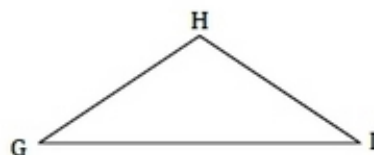
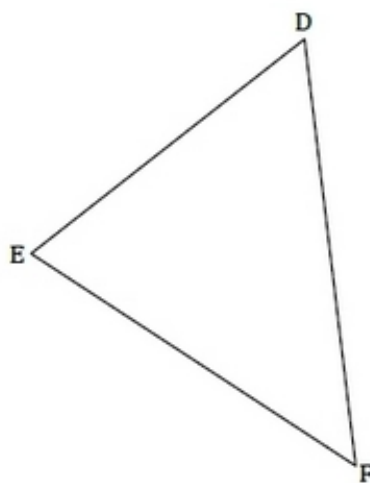
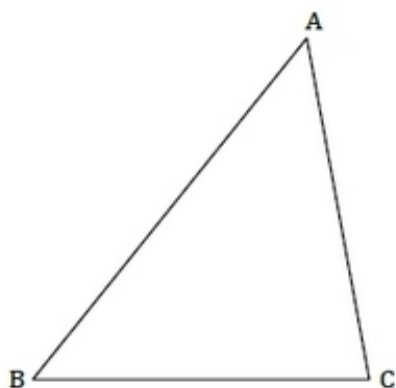
Médiane, médiatrice et hauteur.

Exercice :

– Droites particulières

Construire :

- La médiane issue de A dans le triangle ABC ;
- La médiatrice du côté [DE] dans le triangle DEF ;
- La hauteur issue de G dans le triangle GHI.



Correction de l'exercice :

A vous d'effectuer ces constructions géométriques à l'aide de votre matériel de géométrie et d'une feuille de papier.