

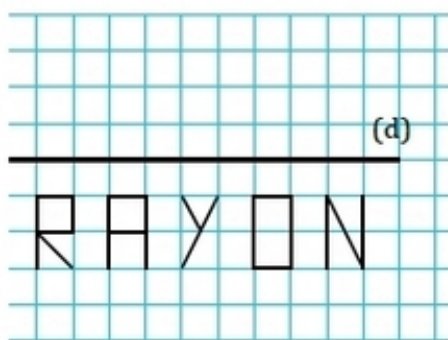
## Symétrie axiale - quadrillage.

Exercice :

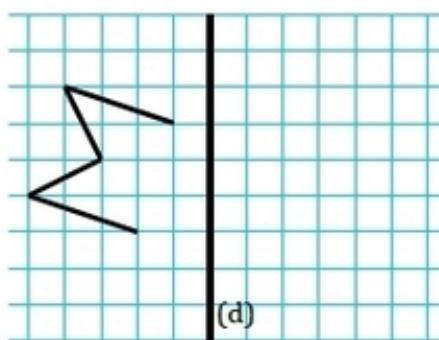
– Construction avec quadrillage

Dans chaque cas, construire l'image de la figure par la symétrie d'axe (d).

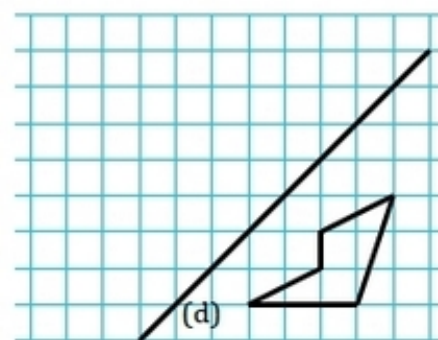
a)



b)



c)




## Correction de l'exercice :

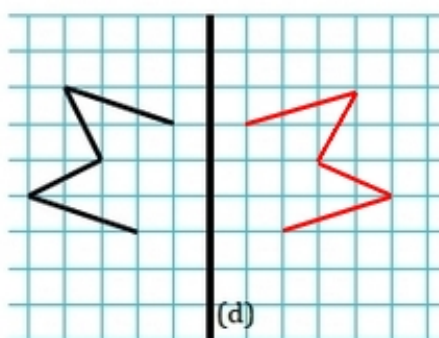
– Construction avec quadrillage

Dans chaque cas, construire l'image de la figure par la symétrie d'axe (d).

a)



b)



c)

