



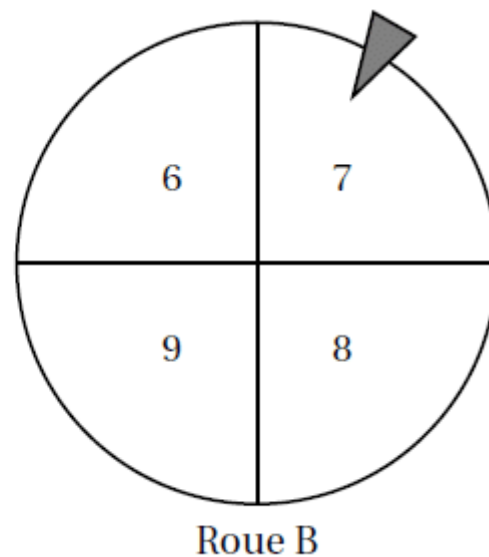
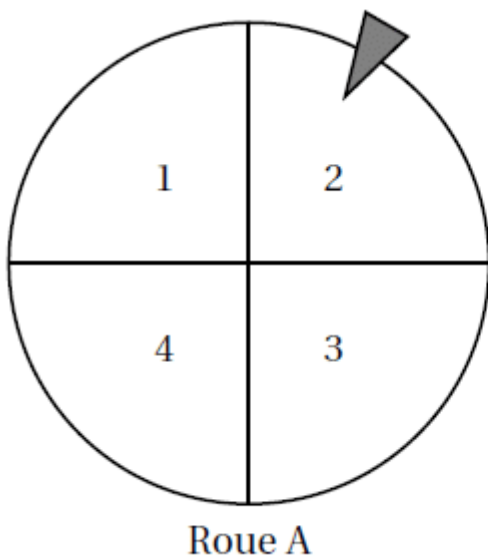
# Brevet de maths 2019 en Grèce à télécharger en PDF

Brevet des collèges Grèce

Le 18 juin 2019

## EXERCICE 1 : 12 POINTS

Mathilde fait tourner deux roues de loterie A et B comportant chacune quatre secteurs numérotés  
comme sur le schéma ci-dessous :



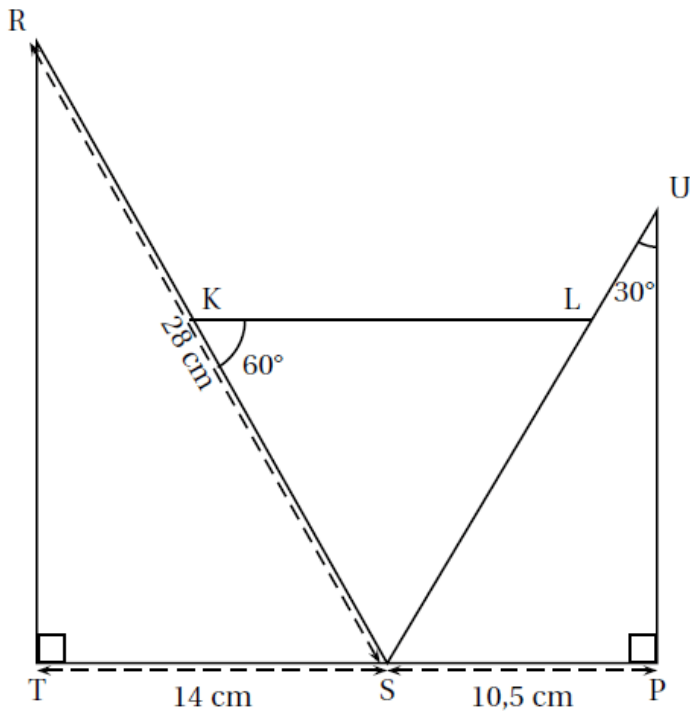
La probabilité d'obtenir chacun des secteurs d'une roue est la même. Les flèches indiquent les deux secteurs obtenus.

L'expérience de Mathilde est la suivante : elle fait tourner les deux roues pour obtenir un nombre à deux chiffres. Le chiffre obtenu avec la roue A est le chiffre des dizaines et celui avec la roue B est le chiffre des unités.

Dans l'exemple ci-dessus, elle obtient le nombre 27 (Roue A : 2 et Roue B : 7).

1. Écrire tous les nombres possibles issus de cette expérience.
2. Prouver que la probabilité d'obtenir un nombre supérieur à 40 est 0,25.
3. Quelle est la probabilité que Mathilde obtienne un nombre divisible par 3?

## EXERCICE 2 : 20 POINTS



### Données :

TSR et SPU sont des triangles rectangles respectivement en T et en P.

TS = 14 cm

SP = 10,5 cm

RS = 28 cm

$\widehat{SKL} = 60^\circ$  ;  $\widehat{SUP} = 30^\circ$

Les points T, S et P sont alignés

Les points R, K et S sont alignés

Les points S, L et U sont alignés

1. La Grèce fait partie des centres étrangers, mais cette année le jour des mathématiques était un jour de fête nationale, d'où un sujet propre à ce pays le 18 juin

1. Montrer que la mesure de l'angle TSR est  $60^\circ$ .
2. Démontrer que les triangles SRT et SUP sont semblables
3. Déterminer le coefficient de réduction liant les triangles SRT et SUP.
4. Calculer la longueur SU.
5. Quelle est la nature du triangle SKL? A justifier.

## EXERCICE 3 : 15 POINTS

Marc et Jim, deux amateurs de course à pied, s'entraînent sur une piste d'athlétisme dont la longueur

du tour mesure 400 m.

Marc fait un temps moyen de 2 minutes par tour.

Marc commence son entraînement par un échauffement d'une longueur d'un kilomètre.

1. Combien de temps durera l'échauffement de Marc?

2. Quelle est la vitesse moyenne de course de Marc en km/h?

À la fin de l'échauffement, Marc et Jim décident de commencer leur course au même point de départ

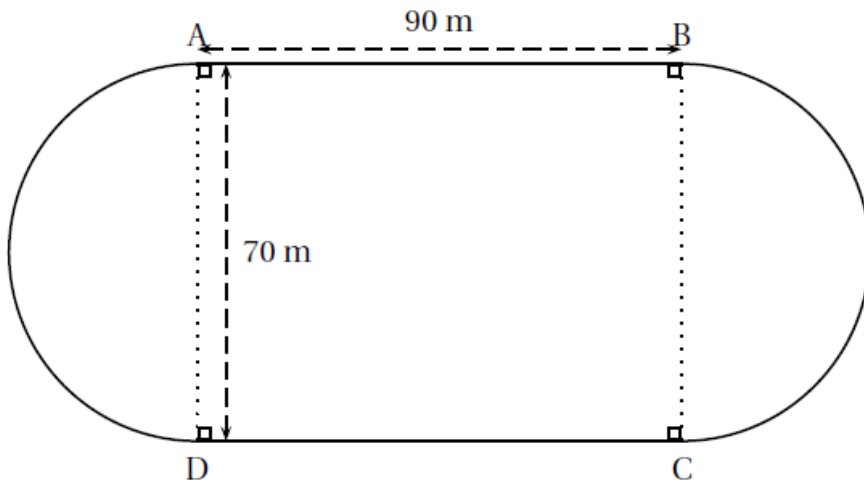
A et vont effectuer un certain nombre de tours.

Jim a un temps moyen de 1 minute et 40 secondes par tour.

Le schéma ci-dessous représente la piste d'athlétisme de Marc et Jim constituée de deux segments

[AB] et [CD] et de deux demi-cercles de diamètre [AD] et [BC].

(Le schéma n'est pas à l'échelle et les longueurs indiquées sont arrondies à l'unité.)

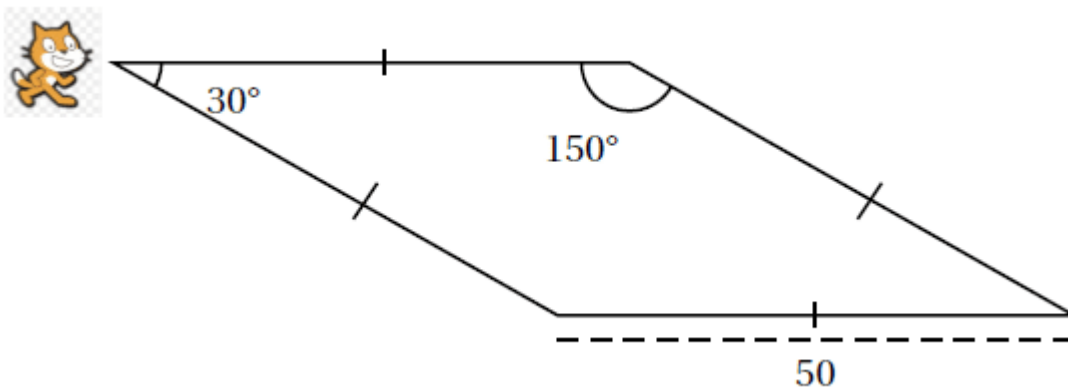


ABCD est un rectangle  
 $AB = 90 \text{ m}$  et  $AD = 70 \text{ m}$

3. Calculer le temps qu'il faudra pour qu'ils se retrouvent ensemble, au même moment, et pour la première fois au point A.  
 Puis déterminer combien de tours de piste cela représentera pour chacun d'entre eux.  
*Toute trace de recherche, même non aboutie, devra apparaître sur la copie. Elle sera prise en compte dans l'évaluation.*

**EXERCICE 4 : 16 POINTS**

Pour occuper son petit frère, Lucie, qui aime bien l'informatique, décide de fabriquer des rosaces à colorier. Elle décide de partir d'un motif ayant la forme d'un losange.  
 A l'aide d'un logiciel de programmation assisté (type scratch), elle a représenté le motif suivant :



Il s'agit d'un losange dont les côtés ont pour longueur 50 pixels et dont les angles aigus mesurent  $30^\circ$  et les angles obtus  $150^\circ$ .  
 Afin de représenter ce losange, elle a écrit le programme suivant :

```

Quand [drapeau] est cliqué
effacer tout
montrer
s'orienter à 90
aller à x: 0 y: 0
mettre Côté à ...
Losange

```

```

définir Losange
stylo en position d'écriture
répéter 2 fois
  avancer de Côté
  tourner de ... degrés
  avancer de Côté
  tourner de ... degrés

```

1. Compléter ci-dessous, le programme ci-dessus en remplaçant les pointillés par les bonnes valeurs pour que le losange soit dessiné tel qu'il est défini.

```

Quand [drapeau] est cliqué
effacer tout
montrer
s'orienter à 90
aller à x: 0 y: 0
mettre Côté à ...
Losange
Cacher


```

```

définir Losange
stylo en position d'écriture
répéter 2 fois
  avancer de Côté
  tourner de ... degrés
  avancer de Côté
  tourner de ... degrés

```

2. En utilisant le losange ci-dessus, elle obtient la rosace suivante qui n'est pas en vraie grandeur :



Quelle transformation géométrique, partant du premier losange ABCD et répétée 12 fois, a été utilisée pour obtenir cette figure? Définir le mieux que vous pouvez cette transformation.

3. Pour finir, Lucie souhaite encore compléter cette rosace de trois façons différentes. Pour cela trois programmes ont été effectués.

Recopier sur votre copie le numéro des trois programmes, et pour chacun, la lettre de la figure qui lui est associée.

Programme 1 :



Programme 2 :



Programme 3 :



Figure A :

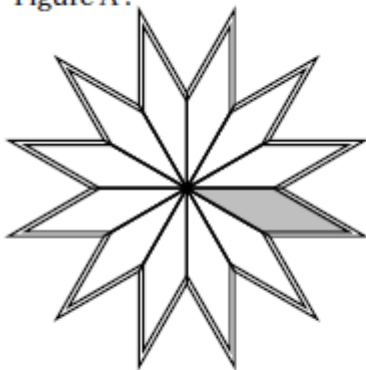


Figure B :





Figure C :



Pour plus de lisibilité, le losange initial a été grisé.

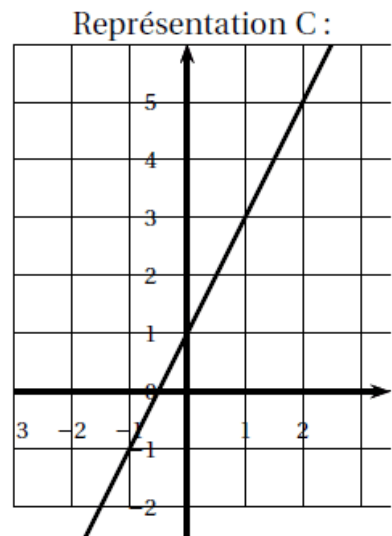
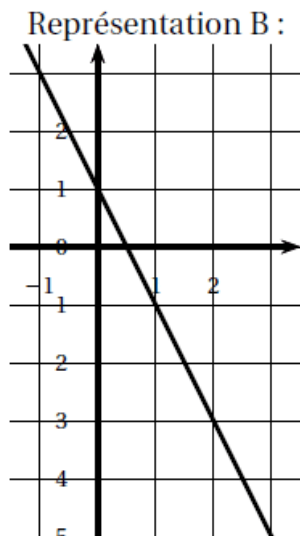
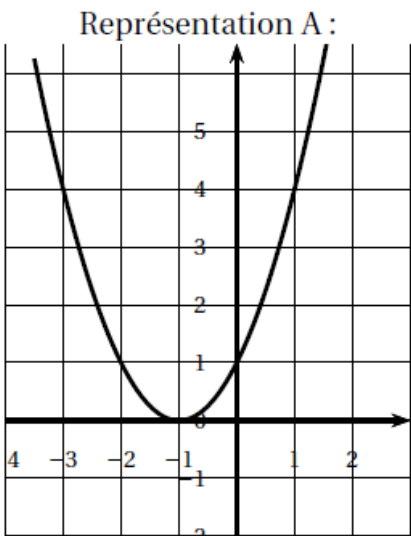
### EXERCICE 5 : 15 POINTS

On donne le programme de calcul suivant :

- Choisir un nombre
- Ajouter 1
- Élever le résultat au carré
- Soustraire au résultat le carré du nombre de départ

1. Montrer que lorsqu'on choisit le nombre 2 au départ, on obtient le nombre 5 au final.  
 2. Quel résultat obtient-on lorsqu'on choisit au départ le nombre -3?  
 3. On définit une fonction  $f$  qui, à tout nombre  $x$  choisi à l'entrée du programme, associe le résultat obtenu à la fin de ce programme.  
 Ainsi, pour tout  $x$ , on obtient  $f(x) = (x + 1)^2 - x^2$   
 Montrer que  $f(x) = 2x + 1$ .  
 4. Cette question est un questionnaire à choix multiples (QCM).  
 Dans chaque cas, une seule réponse est correcte. Pour chacune des questions, écrire sur la copie le numéro de la question et la bonne réponse.  
 Aucune justification n'est demandée.

Question	Réponse A	Réponse B	Réponse C
1. La représentation graphique de la fonction $f$ est :	La représentation A	La représentation B	La représentation C
2. En utilisant la représentation A, l'image de 1 par la fonction représentée est :	4	-2	0
3. En utilisant la représentation B, l'antécédent de 3 par la fonction représentée est :	-1	-5	2



**EXERCICE 6 : 22 POINTS**

Dans le village de Jean, une brocante est organisée chaque année lors du premier week-end de juillet.

Jean s'est engagé à s'occuper du stand de vente de frites. Pour cela, il fabrique des cônes en papier

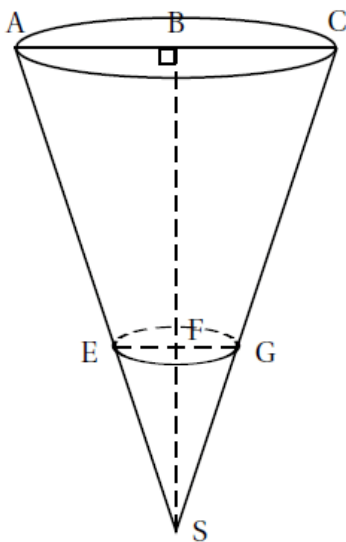
qui lui serviront de barquette pour les vendre.

Dans le fond de chaque cône, Jean versera de la sauce : soit de la mayonnaise, soit de la sauce tomate.

Il décide de fabriquer 400 cônes en papier et il doit estimer le nombre de bouteilles de mayonnaise et de sauce tomate à acheter pour ne pas en manquer.

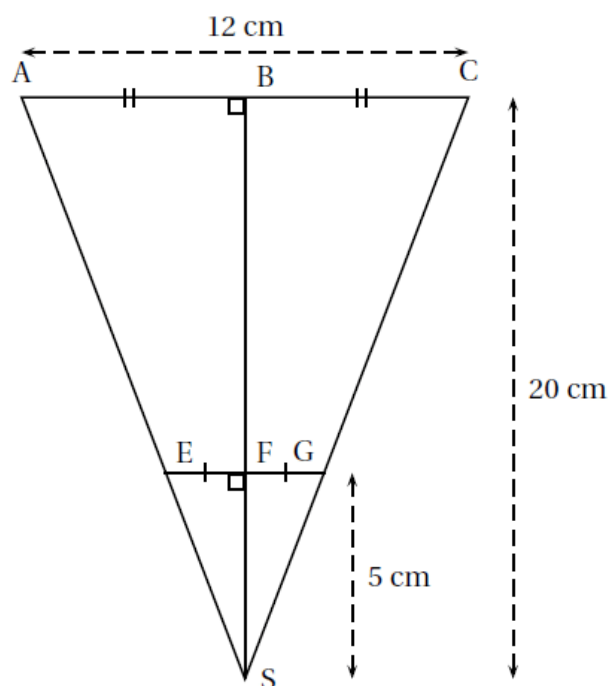
Voici les informations dont Jean dispose pour faire ses calculs :

### Le cône de frites :



La sauce sera versée dans le fond du cône jusqu'au cercle de diamètre [EG].

### Le schéma et les mesures de Jean :



B est le milieu de [AC]

F est le milieu de [EG]

$BS = 20 \text{ cm}$  ;  $FS = 5 \text{ cm}$  ;  $AC = 12 \text{ cm}$

Les acheteurs :

80% des acheteurs prennent de la sauce tomate et tous les autres prennent de la mayonnaise.

Les sauces :

La bouteille de mayonnaise est assimilée à un cylindre de révolution dont le diamètre de base est

5 cm et la hauteur est 15 cm.

La bouteille de sauce tomate a une capacité de 500 mL.

1. Montrer que le rayon [EF] du cône de sauce a pour mesure 1,5 cm.

2. Montrer que le volume de sauce pour un cône de frites est d'environ 11,78 cm<sup>3</sup>

3. Déterminer le nombre de bouteilles de chaque sauce que Jean devra acheter.

Toute trace de recherche même non aboutie devra apparaître sur la copie.



**Rappels:** Volume d'un cône de révolution :  $\frac{\pi \times \text{rayon}^2 \times \text{hauteur}}{3}$   
Volume d'un cylindre de révolution :  $\pi \times \text{rayon}^2 \times \text{hauteur}$   
 $1\,000\text{ cm}^3 = 1\text{ Litre}$