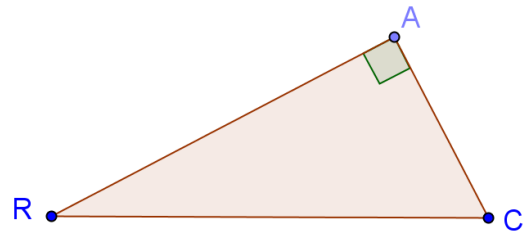


Exercice 1 : (3 points)

a) Dans le triangle suivant, citer :

- (1) l'hypoténuse
- (2) le côté opposé à \widehat{R}
- (3) le côté adjacent à \widehat{R} .

b) Ecrire $\sin \widehat{R}$, $\tan \widehat{R}$ et $\cos \widehat{R}$ avec les lettres de la figure.

**Exercice 2** : au Brevet (7 points)

Dans le triangle ERN, on donne :

$$EN = 9 \text{ cm} \quad RN = 10,6 \text{ cm} \quad \widehat{ENR} = 60^\circ$$

La hauteur issue de E coupe le côté [RN] en A.

La parallèle à (EN) passant par A coupe le côté [RE] en T.

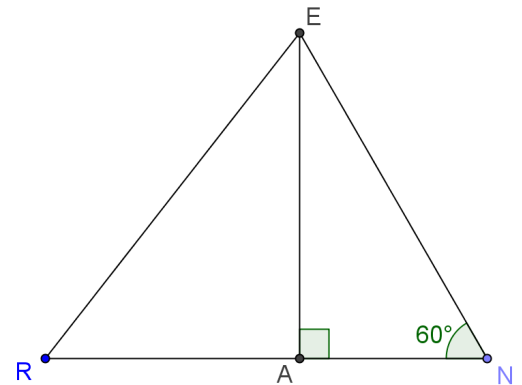
1) a) Prouver que $AN = 4,5 \text{ cm}$

b) Calculer EA (on arrondira au dixième de centimètre).

2) a) Calculer AR.

b) Calculer TA (on arrondira au dixième de centimètre).

c) Calculer l'angle \widehat{ERA} (on arrondira au degré).

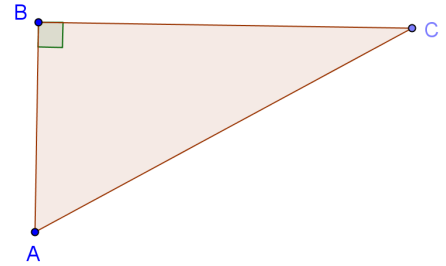


Exercice 1 : (3 points)

a) Dans le triangle suivant, citer :

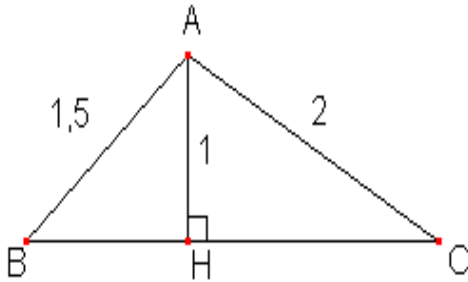
- (1) l'hypoténuse
- (2) le côté adjacent à \widehat{C} .
- (3) le côté opposé à \widehat{C}

b) Ecrire $\cos \widehat{C}$, $\sin \widehat{C}$ et $\tan \widehat{C}$ avec les lettres de la figure.

**Exercice 2** : (7 points)

L'unité de longueur est le centimètre.

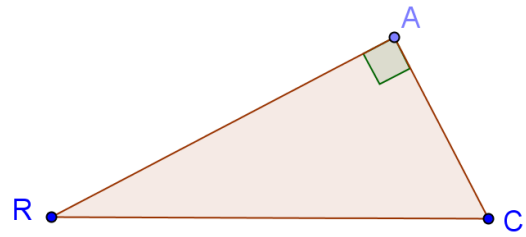
(AH) est la hauteur issue de A dans le triangle ABC.



- a) Déterminer, à 1° près les angles du triangle ABC.
- b) Déterminer la valeur exacte, puis la valeur arrondie au mm près, de la longueur BC.

Exercice 1 : (3 points)

- a) Dans le triangle suivant, citer :
- (1) l'hypoténuse
 - (2) le côté opposé à \widehat{R}
 - (3) le côté adjacent à \widehat{R} .
- b) Ecrire $\sin \widehat{R}$, $\tan \widehat{R}$ et $\cos \widehat{R}$ avec les lettres de la figure.



- a) L'hypoténuse est le côté [RC].
Le côté opposé à \widehat{R} est [AC].
Le côté adjacent à \widehat{R} est [AR].
- b) Dans le triangle ACR rectangle en A, on a :

$$\sin \widehat{R} = \frac{AC}{RC} \quad \tan \widehat{R} = \frac{AC}{AR} \quad \cos \widehat{R} = \frac{AR}{RC}$$

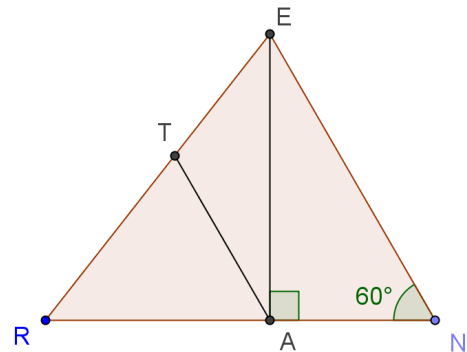
Exercice 2 : au Brevet (7 points)

Dans le triangle ERN, on donne :

$$EN = 9 \text{ cm} \quad RN = 10,6 \text{ cm} \quad \widehat{ENR} = 60^\circ$$

La hauteur issue de E coupe le côté [RN] en A.
La parallèle à (EN) passant par A coupe le côté [RE] en T.

- 1) a) Prouver que $AN = 4,5 \text{ cm}$
- b) Calculer EA (on arrondira au dixième de centimètre).
- 2) a) Calculer AR.
- b) Calculer TA (on arrondira au dixième de centimètre).
- c) Calculer l'angle \widehat{ERA} (on arrondira au degré).



1)a) Dans le triangle AEN rectangle en A, on a :

$$\cos \widehat{ENA} = \frac{AN}{EN}$$

$$AN = 9 \times \cos 60^\circ = 4,5 \text{ cm}$$

b) On peut appliquer le théorème de Pythagore dans le triangle EAN rectangle en A pour calculer EA :

$$EA^2 = EN^2 - AN^2$$

$$EA^2 = 81 - 20,25 = 60,75$$

$$EA = \sqrt{60,75} \approx 7,8 \text{ cm}$$

Autre méthode utilisant la trigonométrie dans le triangle rectangle EAN: $EA = 9 \sin 60^\circ$

2) a) $AR = RN - AN = 10,6 - 4,5 = 6,1 \text{ cm}$

b) En appliquant le théorème de Thalès dans les triangles ART et ENR (les droites (AT) et (EN) étant parallèles) :

$$\frac{AR}{NR} = \frac{TA}{EN} \quad \rightarrow \quad \frac{6,1}{10,6} = \frac{TA}{9}$$

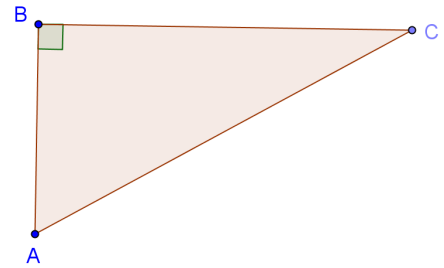
d'où $TA \approx 5,2 \text{ cm}$

c) $\tan \widehat{ERA} = \frac{EA}{AR} = \frac{\sqrt{60,75}}{6,1}$

$$\widehat{ERA} \approx 52^\circ$$

Exercice 1 : (3 points)

- a) Dans le triangle suivant, citer :
- (1) l'hypoténuse
 - (2) le côté adjacent à \widehat{C} .
 - (3) le côté opposé à \widehat{C}
- b) Ecrire $\cos \widehat{C}$, $\sin \widehat{C}$ et $\tan \widehat{C}$ avec les lettres de la figure.



a) L'hypoténuse est le côté [AC].

Le côté adjacent à \widehat{C} est [BC].

Le côté opposé à \widehat{C} est [AB].

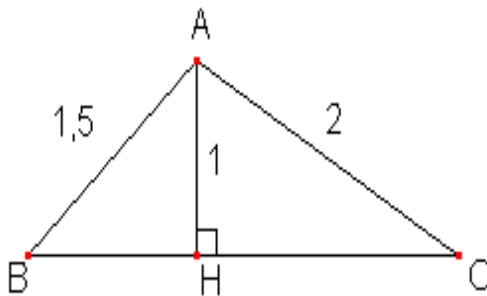
b) Dans le triangle ACR rectangle en A, on a :

$$\cos \widehat{C} = \frac{BC}{AC} \quad \sin \widehat{C} = \frac{AB}{AC} \quad \tan \widehat{C} = \frac{AB}{BC}$$

Exercice 2 : (7 points)

L'unité de longueur est le centimètre.

(AH) est la hauteur issue de A dans le triangle ABC.



- a) Déterminer, à 1° près les angles du triangle ABC.
- b) Déterminer la valeur exacte, puis la valeur arrondie au mm près, de la longueur BC.

a) Dans le triangle ABH rectangle en H, on a : $\sin \widehat{ABH} = \frac{AH}{AB} = \frac{1}{1,5}$

On en déduit $\widehat{ABH} \approx 42^\circ$

Dans le triangle ACH rectangle en H, on a : $\sin \widehat{ACH} = \frac{AH}{AC} = \frac{1}{2}$

On en déduit $\widehat{ACH} = 30^\circ$

$$\widehat{ABC} \approx 42^\circ, \widehat{ACB} = 30^\circ$$

$$\widehat{BAC} = 180 - \widehat{ABC} - \widehat{ACB} \approx 180 - 42 - 30 \approx 108^\circ$$

b) En appliquant le théorème de Pythagore dans le triangle ABH rectangle en H, on a :

$$BH^2 = AB^2 - AH^2 = 1,5^2 - 1^2 = 1,25$$

$$BH = \sqrt{1,25} = \frac{\sqrt{5}}{2}$$

En appliquant le théorème de Pythagore dans le triangle ACH rectangle en H, on a :

$$CH^2 = AC^2 - AH^2 = 2^2 - 1^2 = 3$$

$$BC = BH + HC = \frac{\sqrt{5}}{2} + \sqrt{3} \approx 2,9 \text{ cm}$$